



Funktionsmaskiner II


Talet 5 stoppas in i den första funktionsmaskinen. Vilket värde får man ut ur den andra funktionsmaskinen? Som du ser blir det 32.



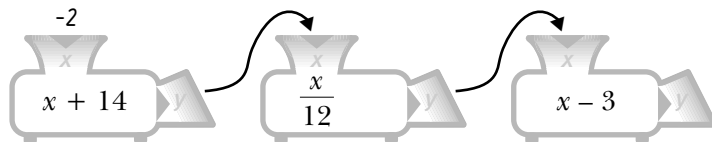
- 1 Vilket värde kommer ur den andra funktionsmaskinen?



- 2 Vilket värde kommer ur den andra funktionsmaskinen?



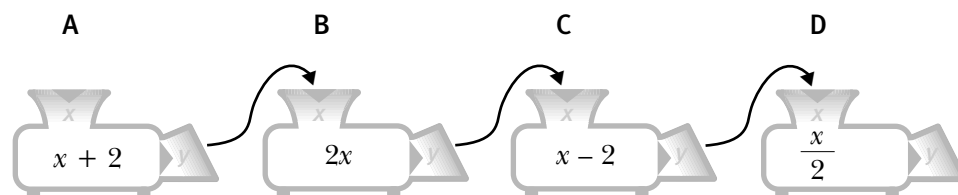
- 3 Vilket värde kommer ur den tredje funktionsmaskinen?



- 4 Nu finns det fyra funktionsmaskiner. Stoppa in värdet i maskinerna i ordning A-B-C-D. Vilket värde kommer ur den sista funktionsmaskinen om man stoppar in

a) $x = 10$ _____

b) $x = 2$ _____



- 5 Ändra ordningen på maskinerna och tag dem bakifrån, alltså D-C-B-A. Vilket värde kommer då ur den sista funktionsmaskinen om

a) $x = 10$ _____

b) $x = 2$ _____