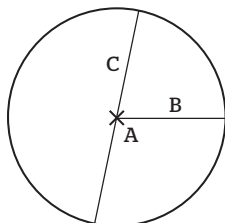


Övningsblad 3.1 B

Cirkelns omkrets

- 1 Para ihop rätt begrepp med rätt bokstav genom att dra ett streck mellan dem.



A
B
C

Radie
Diameter
Medelpunkt

- 2 Beräkna radien om diametern är

a) 2 dm


b) 628 m

c) 600 mm

$r =$ _____

$r =$ _____

$r =$ _____



- 3 Beräkna omkretsen av

a) ett bildäck med diametern 60 cm.

b) en pool med diametern 8 m.

c) en studsatta med diametern 360 cm.


d) en tejprulle med diametern 55 mm.

a) $O =$ _____

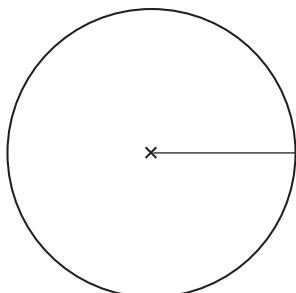
b) $O =$ _____

c) $O =$ _____

d) $O =$ _____



- 4 Mät cirkelns radie i mm. Beräkna diameter och omkrets.



$r =$ _____

$d =$ _____

$O =$ _____

