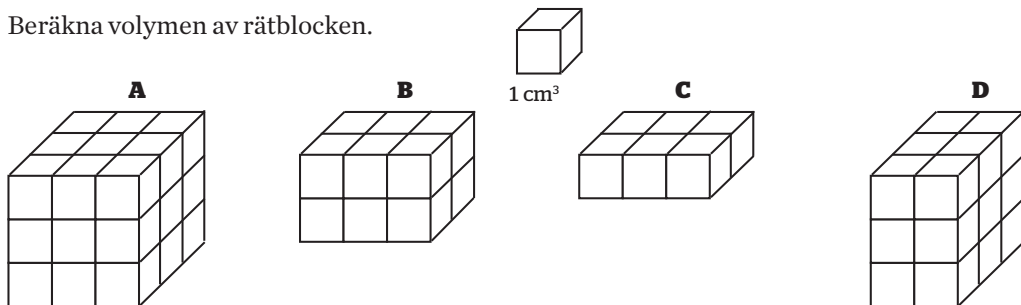


Övningsblad 3.4

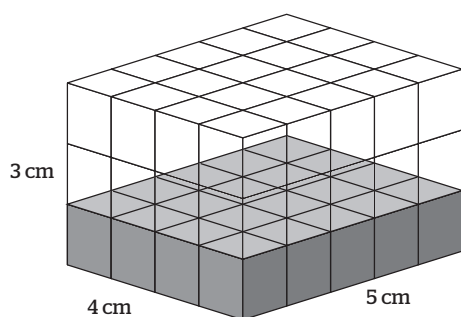
Volym av rätblock

1 Beräkna volymen av rätblocken.



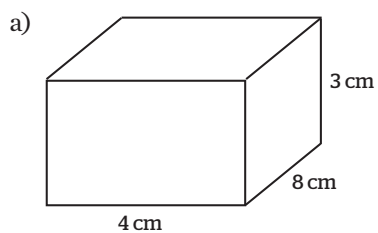
A _____ B _____ C _____ D _____

2

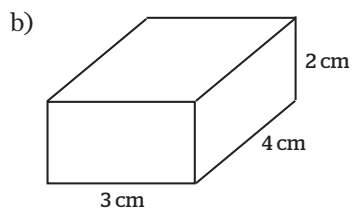


- a) Hur stor är basytans area? _____
- b) Hur stor är rätblockets volym? _____
- c) Hur stor blir volymen om höjden görs dubbelt så stor? _____

3 Beräkna volymen av rätblocket.



$V =$ _____



$V =$ _____

